



Zu welcher Uhrzeit gehört diese Uhr?



Gemischte Uhrzeiten

1.



Es ist _____ Uhr.

2.



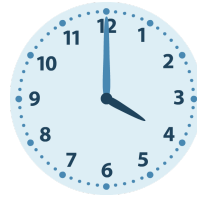
Es ist _____ Uhr.

3.



Es ist _____ Uhr.

4.



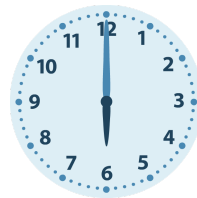
Es ist _____ Uhr.

5.



Es ist _____ Uhr.

6.



Es ist _____ Uhr.

7.



Es ist _____ Uhr.

8.



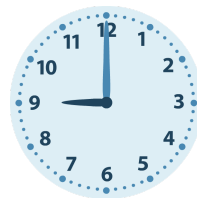
Es ist _____ Uhr.

9.



Es ist _____ Uhr.

10.



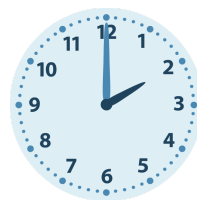
Es ist _____ Uhr.

11.



Es ist _____ Uhr.

12.



Es ist _____ Uhr.

1.



Es ist **11** Uhr.

2.



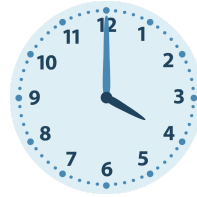
Es ist **7** Uhr.

3.



Es ist **3** Uhr.

4.



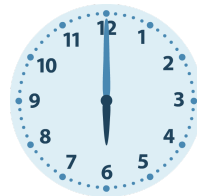
Es ist **4** Uhr.

5.



Es ist **5** Uhr.

6.




Es ist **6** Uhr.

7.



Es ist **4** Uhr.

8.



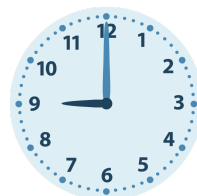
Es ist **1** Uhr.

9.



Es ist **9** Uhr.

10.



Es ist **9** Uhr.

11.



Es ist **2** Uhr.

12.



Es ist **2** Uhr.