



Zu welcher Uhrzeit gehört diese Uhr?



Gemischte Uhrzeiten

1.



Es ist _____ Uhr.

2.




Es ist _____ Uhr.

3.



Es ist _____ Uhr.

4.



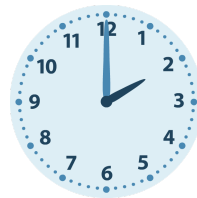
Es ist _____ Uhr.

5.



Es ist _____ Uhr.

6.



Es ist _____ Uhr.

7.



Es ist _____ Uhr.

8.




Es ist _____ Uhr.

9.



Es ist _____ Uhr.

10.




Es ist _____ Uhr.

11.



Es ist _____ Uhr.

12.



Es ist _____ Uhr.

1.

Es ist **5** Uhr.


2.

Es ist **5** Uhr.

3.

Es ist **7** Uhr.


4.

Es ist **2** Uhr.

5.

Es ist **11** Uhr.

6.

Es ist **2** Uhr.

7.

Es ist **9** Uhr.


8.

Es ist **8** Uhr.

9.

Es ist **2** Uhr.

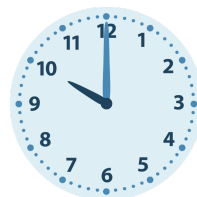
10.

Es ist **2** Uhr.

11.

Es ist **1** Uhr.

12.

Es ist **10** Uhr.