

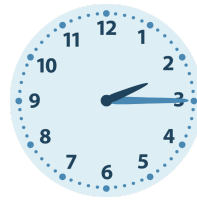


1.



Es ist Viertel nach \_\_\_\_\_.

2.



Es ist Viertel nach \_\_\_\_\_.

3.



Es ist halb \_\_\_\_\_.

4.



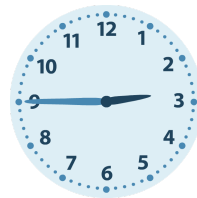
Es ist Viertel vor \_\_\_\_\_.

5.



Es ist halb \_\_\_\_\_.

6.



Es ist Viertel vor \_\_\_\_\_.

7.



Es ist halb \_\_\_\_\_.

8.



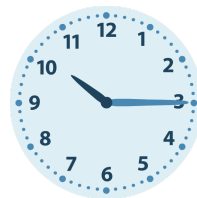
Es ist halb \_\_\_\_\_.

9.



Es ist halb \_\_\_\_\_.

10.



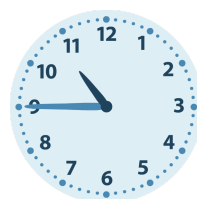
Es ist Viertel nach \_\_\_\_\_.

11.



Es ist Viertel vor \_\_\_\_\_.

12.



Es ist Viertel vor \_\_\_\_\_.

1.

Es ist Viertel nach **7**.

2.

Es ist Viertel nach **2**.

3.

Es ist halb **7**.

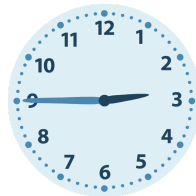
4.

Es ist Viertel vor **8**.

5.

Es ist halb **4**.

6.

Es ist Viertel vor **3**.

7.

Es ist halb **4**.

8.

Es ist halb **7**.

9.

Es ist halb **12**.

10.

Es ist Viertel nach **10**.

11.

Es ist Viertel vor **12**.

12.

Es ist Viertel vor **11**.