



1.



Es ist halb _____.

2.



Es ist Viertel nach _____.

3.



Es ist Viertel vor _____.

4.



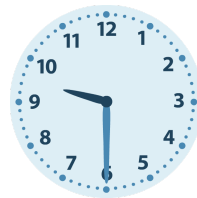
Es ist halb _____.

5.



Es ist Viertel nach _____.

6.



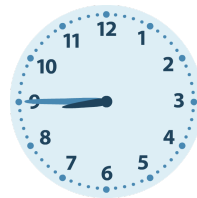
Es ist halb _____.

7.



Es ist halb _____.

8.



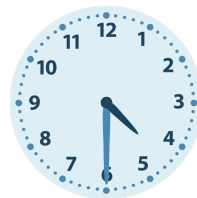
Es ist Viertel vor _____.

9.



Es ist Viertel nach _____.

10.




Es ist halb _____.

11.



Es ist Viertel vor _____.

12.

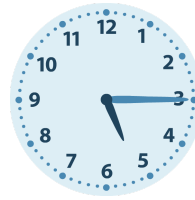


Es ist halb _____.

1.

Es ist halb **3**.

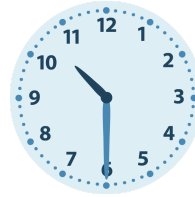
2.

Es ist Viertel nach **5**.

3.

Es ist Viertel vor **7**.

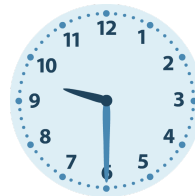
4.

Es ist halb **11**.

5.

Es ist Viertel nach **10**.

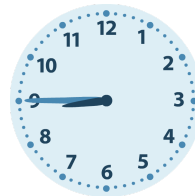
6.

Es ist halb **10**.

7.

Es ist halb **5**.

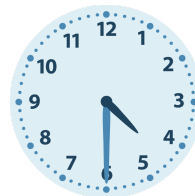
8.

Es ist Viertel vor **9**.

9.

Es ist Viertel nach **9**.

10.

Es ist halb **5**.

11.

Es ist Viertel vor **4**.

12.

Es ist halb **7**.