



1.



Es ist halb \_\_\_\_\_.

2.



Es ist halb \_\_\_\_\_.

3.



Es ist Viertel vor \_\_\_\_\_.

4.



Es ist halb \_\_\_\_\_.

5.



Es ist Viertel vor \_\_\_\_\_.

6.



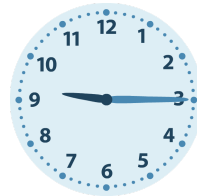
Es ist Viertel nach \_\_\_\_\_.

7.



Es ist Viertel nach \_\_\_\_\_.

8.




Es ist Viertel nach \_\_\_\_\_.

9.



Es ist halb \_\_\_\_\_.

10.



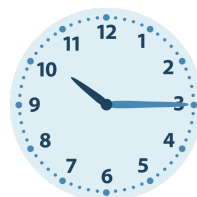
Es ist Viertel vor \_\_\_\_\_.

11.



Es ist Viertel vor \_\_\_\_\_.

12.



Es ist Viertel nach \_\_\_\_\_.

1.

Es ist halb **6**.

2.

Es ist halb **8**.

3.

Es ist Viertel vor **9**.

4.

Es ist halb **5**.

5.

Es ist Viertel vor **6**.

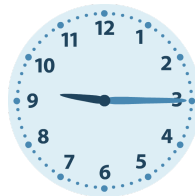
6.

Es ist Viertel nach **6**.

7.

Es ist Viertel nach **1**.

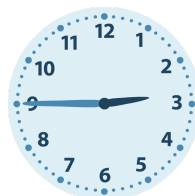
8.

Es ist Viertel nach **9**.

9.

Es ist halb **5**.

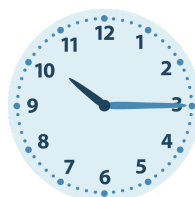
10.

Es ist Viertel vor **3**.

11.

Es ist Viertel vor **11**.

12.

Es ist Viertel nach **10**.