



1.



Es ist Viertel vor _____.

2.



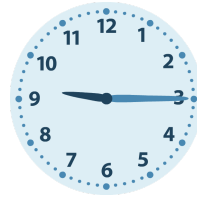
Es ist Viertel nach _____.

3.



Es ist Viertel nach _____.

4.



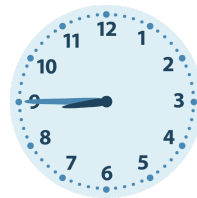
Es ist Viertel nach _____.

5.



Es ist Viertel vor _____.

6.



Es ist Viertel vor _____.

7.



Es ist Viertel vor _____.

8.



Es ist halb _____.

9.



Es ist Viertel vor _____.

10.



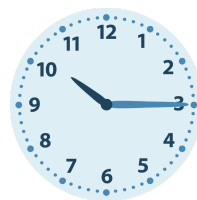
Es ist Viertel vor _____.

11.



Es ist halb _____.

12.



Es ist Viertel nach _____.

1.

Es ist Viertel vor **7**.

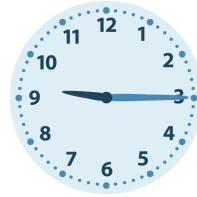
2.

Es ist Viertel nach **7**.

3.

Es ist Viertel nach **11**.

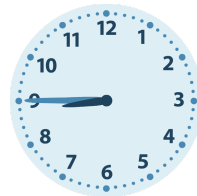
4.

Es ist Viertel nach **9**.

5.

Es ist Viertel vor **7**.

6.

Es ist Viertel vor **9**.

7.

Es ist Viertel vor **8**.

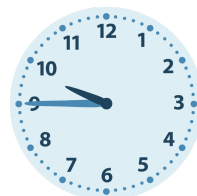
8.

Es ist halb **9**.

9.

Es ist Viertel vor **7**.

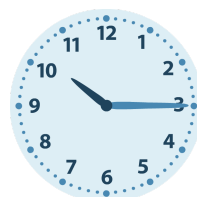
10.

Es ist Viertel vor **10**.

11.

Es ist halb **4**.

12.

Es ist Viertel nach **10**.