

1.



Es ist Viertel nach \_\_\_\_\_.

2.



Es ist halb \_\_\_\_\_.

3.



Es ist Viertel nach \_\_\_\_\_.

4.



Es ist Viertel nach \_\_\_\_\_.

5.



Es ist Viertel nach \_\_\_\_\_.

6.



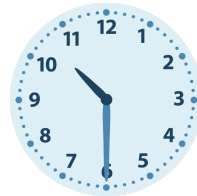
Es ist Viertel vor \_\_\_\_\_.

7.



Es ist halb \_\_\_\_\_.

8.



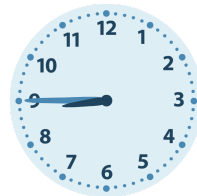
Es ist halb \_\_\_\_\_.

9.



Es ist Viertel vor \_\_\_\_\_.

10.




Es ist Viertel vor \_\_\_\_\_.

11.



Es ist halb \_\_\_\_\_.

12.

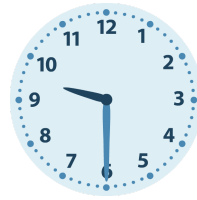


Es ist Viertel vor \_\_\_\_\_.

1.

Es ist Viertel nach **5**.

2.

Es ist halb **10**.

3.

Es ist Viertel nach **4**.

4.

Es ist Viertel nach **8**.

5.

Es ist Viertel nach **4**.

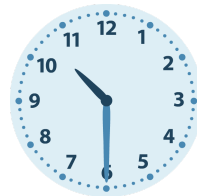
6.

Es ist Viertel vor **6**.

7.

Es ist halb **12**.

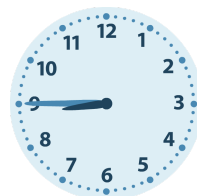
8.

Es ist halb **11**.

9.

Es ist Viertel vor **6**.

10.

Es ist Viertel vor **9**.

11.

Es ist halb **3**.

12.

Es ist Viertel vor **5**.