



# Wie viel wurde gewürfelt? (ein Würfel)




Mengen

1.



5 7 8 6

2.




3 5 4 2

3.




3 2 5 8

4.




2 3 1 4

5.




6 7 4 8

6.




2 3 5 4

7.




6 4 9 7

8.




4 2 5 3

9.



2 6 4 3

10.



5 8 2 4

11.




5 6 3 2

12.




4 5 6 3

13.




5 4 1 2

14.




4 3 2 1

15.



4 8 5 6

16.



3 4 1 2

1.

5 7 8 6

2.

3 5 4 2

3.

3 2 5 8

4.

2 3 1 4

5.

6 7 4 8

6.

2 3 5 4

7.

6 4 9 7

8.

4 2 5 3

9.

2 6 4 3

10.

5 8 2 4

11.

5 6 3 2

12.

4 5 6 3

13.

5 4 1 2

14.

4 3 2 1

15.

4 8 5 6

16.

3 4 1 2